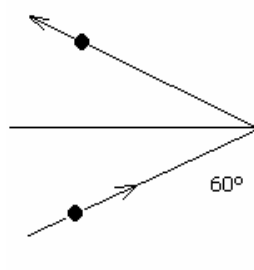


## 7. Teoremas de conservación

### Cantidad de movimiento

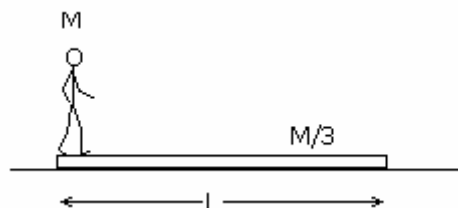
- 1) Una pelota de 1.35 Kg rebota contra una pared a 12 m/s y al hacerlo conserva el módulo de la velocidad. Halle la variación de la cantidad de movimiento. ¿Varía la energía?



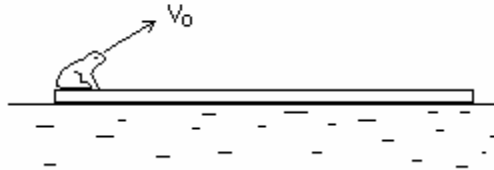
- 2) La Tierra describe una órbita aproximadamente circular alrededor del Sol de período  $T=365$  días. Dibuje la trayectoria y calcule el vector cantidad de movimiento, en algún instante. ¿Se conserva? Justifique.

### Centro de masa

- 3) Calcule la posición del centro de masa del sistema Tierra-Luna. La masa de la Tierra es unas 82 veces la de la Luna y la distancia entre los centros de la Tierra y la Luna es de unos 60 radios terrestres. Expresé la respuesta en función del radio terrestre.
- 4) La bolsa de un calamar contiene 100 g de tinta. Para ahuyentar a sus posibles depredadores y poder huir de ellos, expulsa de golpe esa tinta que sale a una velocidad de 5 m/s. Si la masa del calamar sin tinta es de 400 g. ¿Qué velocidad adquiere al expulsar la tinta?
- 5) Pablo y Romina se lanzan al agua simultáneamente desde una balsa. Los módulos de sus velocidades son iguales y sus masas son 75 Kg y 52 Kg respectivamente. Pablo se lanza al este y Romina al sur. ¿En qué dirección se moverá la balsa?
- 6) Según puede verse en la figura, un hombre de masa  $M$  está de pie sobre un tablón de longitud  $L$  que se halla en reposo apoyado sobre una superficie sin rozamiento. El hombre camina hasta el otro extremo del tablón. ¿Qué distancia habrá recorrido el hombre respecto de la superficie fija si la masa del tablón es  $M/3$ ?



- 7) (Opcional) Una rana de 50 g de masa esta en el extremo de una tabla de madera de 5 Kg de masa y de 2 m de longitud. La tabla esta flotando en la superficie de un lago. La rana salta con velocidad  $V_0$  formando un ángulo de  $30^\circ$  con la horizontal. Calcule el valor de  $V_0$  para que la rana al saltar llegue al otro extremo de la tabla. Suponga que no existe rozamiento entre la madera y el agua.



## Choques

- 8) Se dispara una bala de masa 5 g contra un bloque de madera con ruedas, sin rozamiento. La masa del conjunto constituido por el bloque y la bala es de 2 kg. Inicialmente el bloque se halla en reposo, pero después de alojarse la bala en el bloque, el sistema bala-bloque adquiere una velocidad de 1 m/s. Calcule la velocidad de impacto de la bala.
- 9) Las tres partículas de la figura tienen igual masa. La primera choca plásticamente con la segunda y ambas va a chocar elásticamente con la tercera. Calcule las velocidades finales.



- 10) Una bolita se suelta desde una altura de 80 cm sobre un plano inclinado. Al recorrer el tramo horizontal choca en forma elástica con otra bolita de igual masa.



- a) ¿Hasta qué altura sube la segunda bolita?
- b) ¿A qué altura llegará la primer bolita luego de chocar por segunda vez? Describa cualitativamente el movimiento para todo tiempo.

## Respuestas

- |  |                       |
|--|-----------------------|
| 1) 28 kgm/s  | 6) $L/4$              |
| 2) $1,8 \cdot 10^{29}$ kg.m/s.   | 7) 4,78 m/s           |
| 3) $r_{cm}=0,72 R_T$   | 8) 400 m/s            |
| 4) 1,25 m/s  | 9) $V_0/6$ y $2V_0/3$ |
| 5) Se mueve en dirección NO, formando un ángulo de $34,7^\circ$ con el O | 10) a) 80 cm          |